



# 図をつかって考えよう

## たし算とひき算の かんけい ① (1)

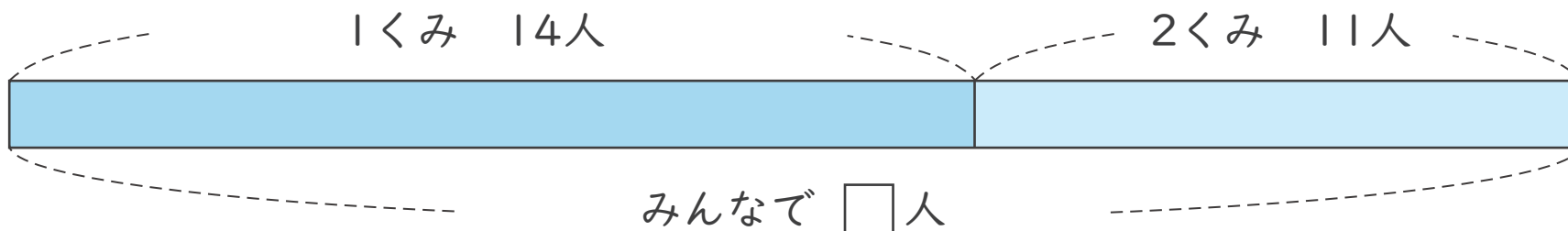
ねん  
年

くみ  
組

なまえ  
名前

図を見て  をもとめる しきと 答えを 書きましょう。

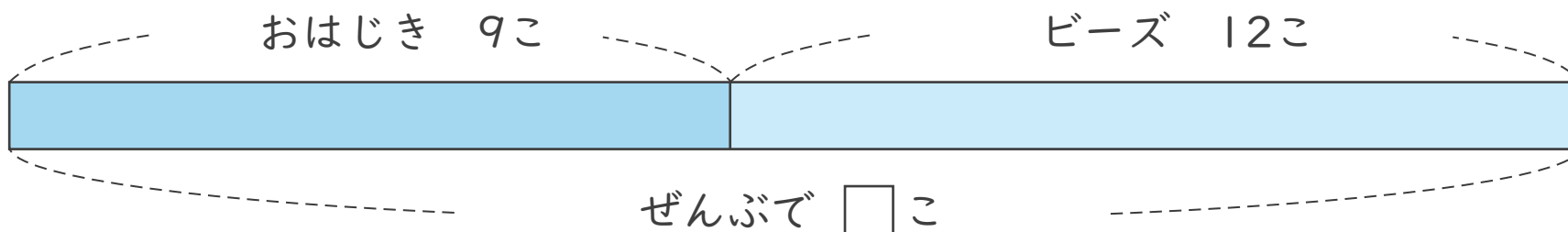
1 1くみと 2くみ あわせて 何人ですか。



(しき)

答え

2 おはじきと ビーズ ぜんぶで 何こですか。



(しき)

答え



# 図をつかって考えよう

## たし算とひき算のかんけい 1 (2)

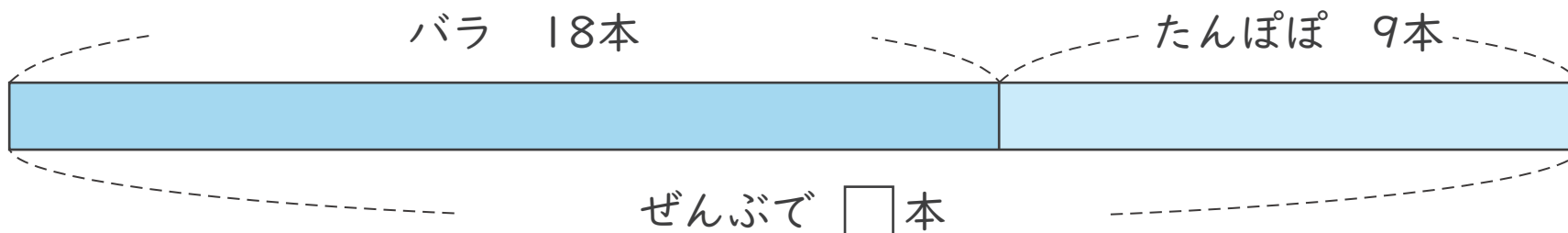
ねん  
年

くみ  
組

なまえ  
名前

図を見て  をもとめる しきと 答えを書きましょう。

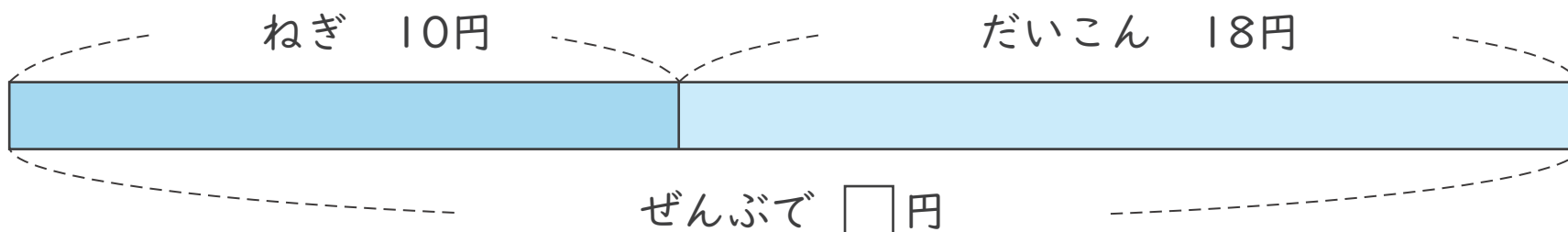
1 バラとたんぽぽぜんぶで何本ですか。



(しき)

答え

2 ねぎとだいこんぜんぶでいくらですか。



(しき)

答え



# 図をつかって考えよう

## たし算とひき算のかんけい 1 (3)

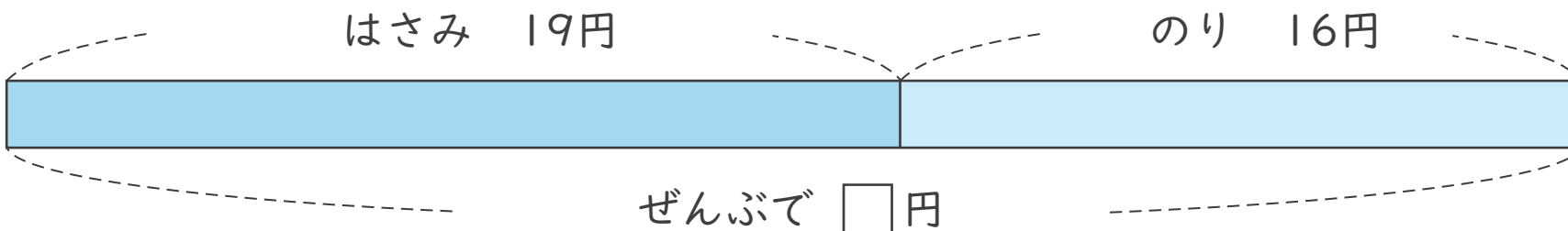
ねん  
年

くみ  
組

なまえ  
名前

図を見て  をもとめるしきと 答えを書きましょう。

1 はさみと のり ぜんぶでいくらですか。



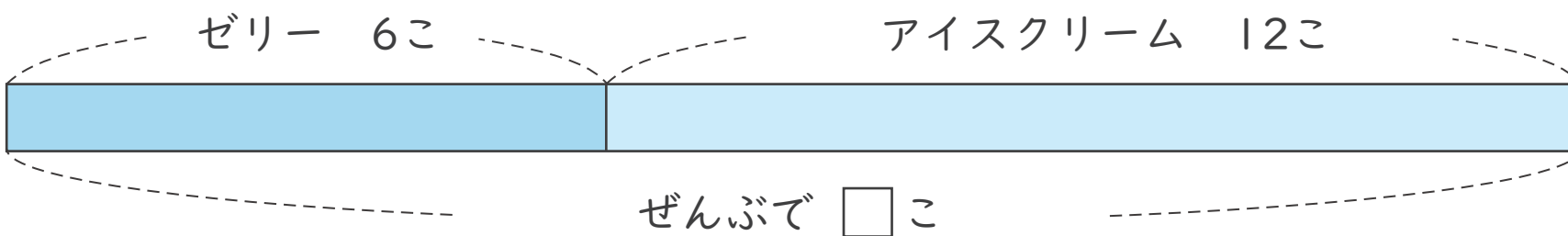
(しき)

\_\_\_\_\_

答え

\_\_\_\_\_

2 ゼリーと アイスクリーム ぜんぶで 何こですか。



(しき)

\_\_\_\_\_

答え

\_\_\_\_\_



# 図をつかって考えよう

## たし算とひき算のかんけい 1 (4)

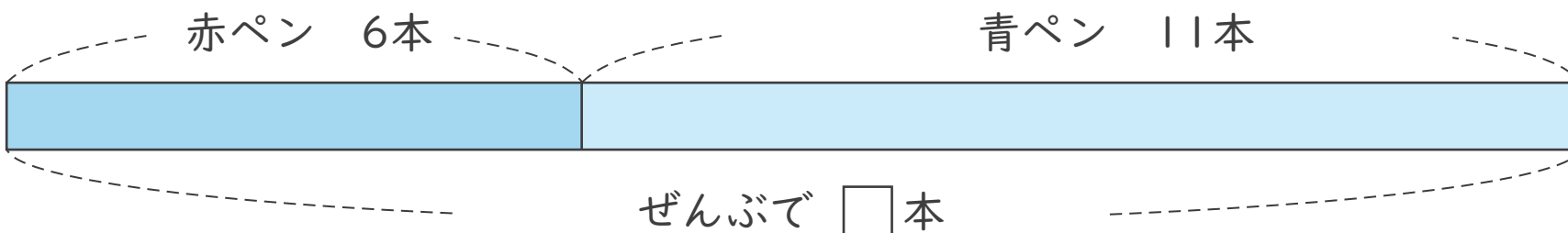
ねん  
年

くみ  
組

なまえ  
名前

図を見て  をもとめるしきと 答えを書きましょう。

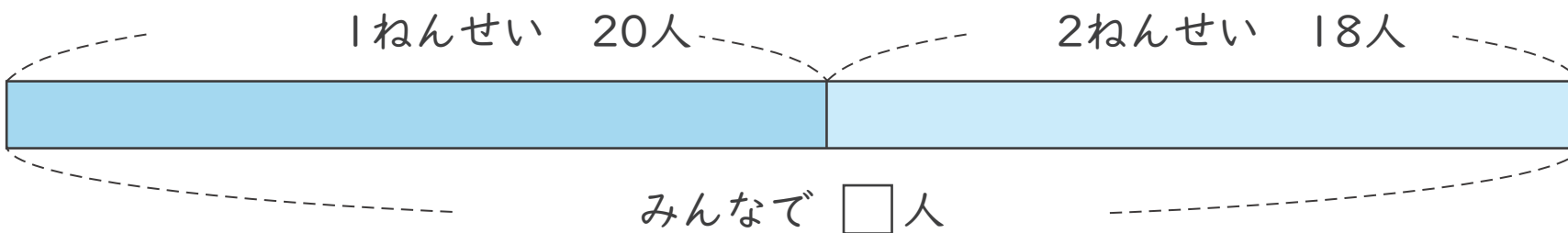
1 赤ペンと青ペンぜんぶで何本ですか。



(しき)

答え

2 1ねんせいと2ねんせいあわせて何人ですか。



(しき)

答え



# 図をつかって考えよう

## たし算とひき算のかんけい ① (5)

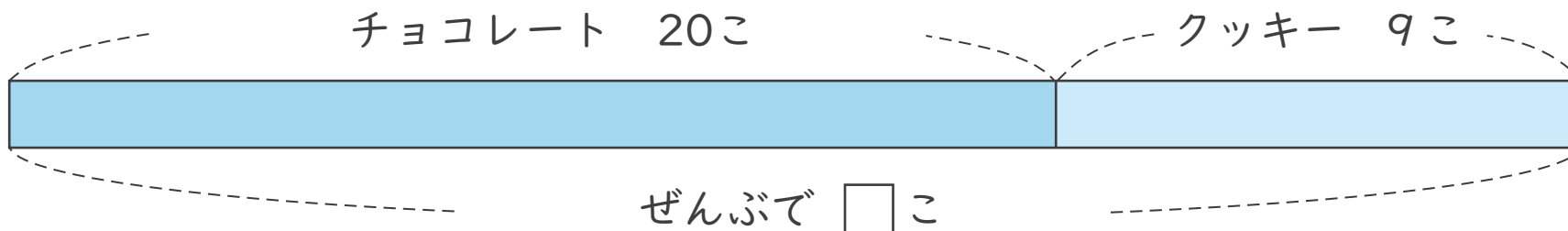
ねん  
年

くみ  
組

なまえ  
名前

図を見て  $\square$  をもとめるしきと答えを書きましょう。

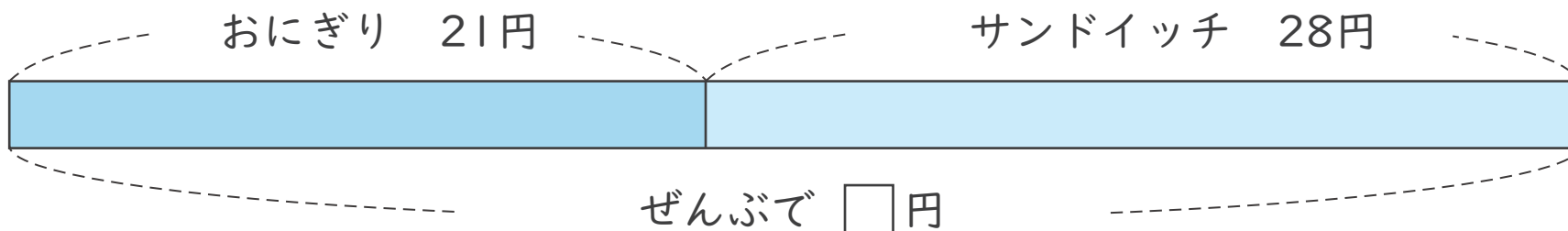
1 チョコレートとクッキーぜんぶで何こですか。



(しき)

答え

2 おにぎりとサンドイッチぜんぶでいくらですか。



(しき)

答え



# 図をつかって考えよう

## たし算とひき算のかんけい 1 (6)

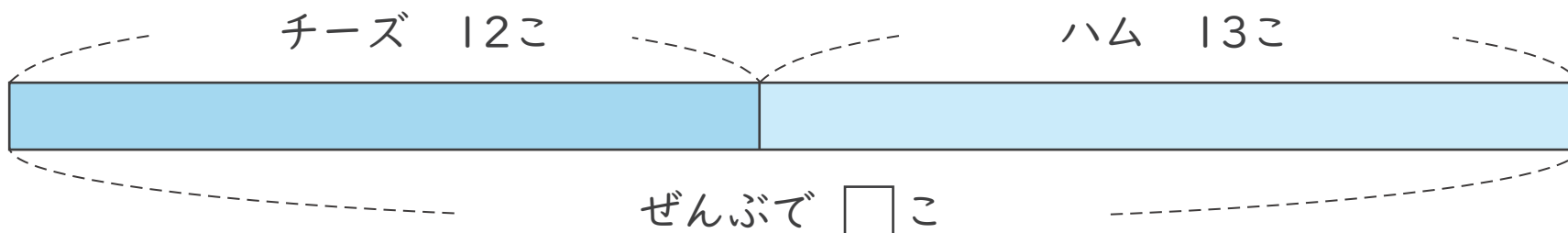
ねん  
年

くみ  
組

なまえ  
名前

図を見て  をもとめるしきと答えを書きましょう。

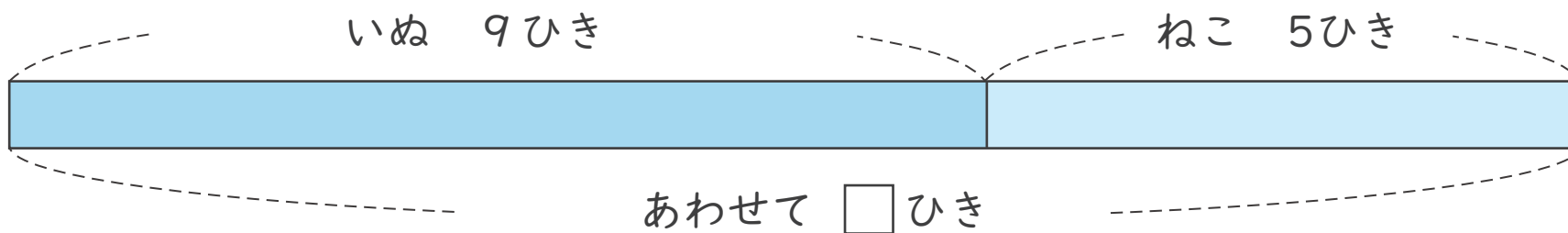
1 チーズとハムぜんぶで何こですか。



(しき)

答え

2 いぬとねこあわせて何ひきですか。



(しき)

答え



# 図をつかって考えよう

## たし算とひき算のかんけい 1 (7)

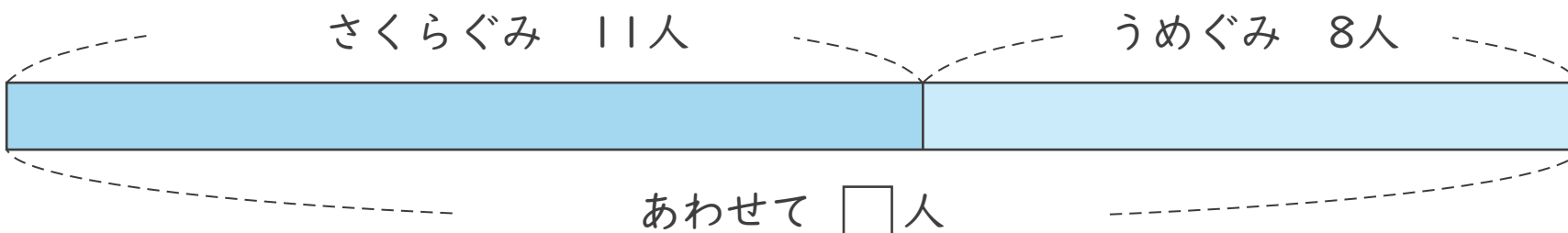
ねん  
年

くみ  
組

なまえ  
名前

図を見て  をもとめるしきと 答えを書きましょう。

1 さくらぐみと うめぐみ あわせて何人ですか。



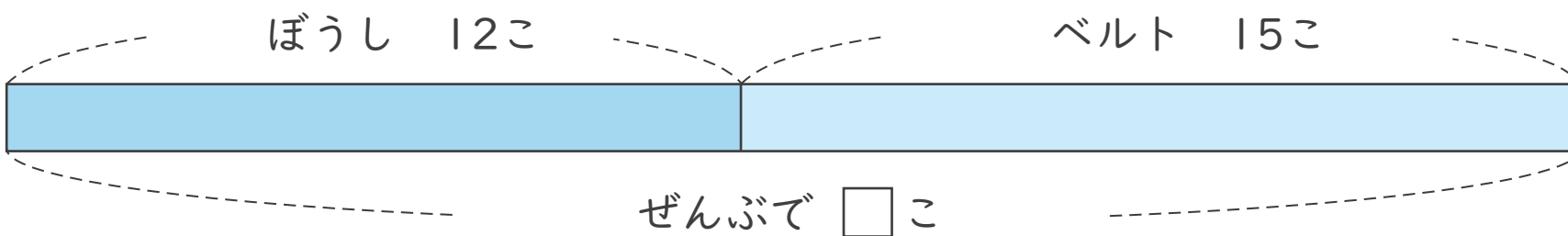
(しき)

\_\_\_\_\_

答え

\_\_\_\_\_

2 ぼうしとベルトぜんぶで何こですか。



(しき)

\_\_\_\_\_

答え

\_\_\_\_\_



# 図をつかって考えよう

## たし算とひき算の かんけい 1 (8)

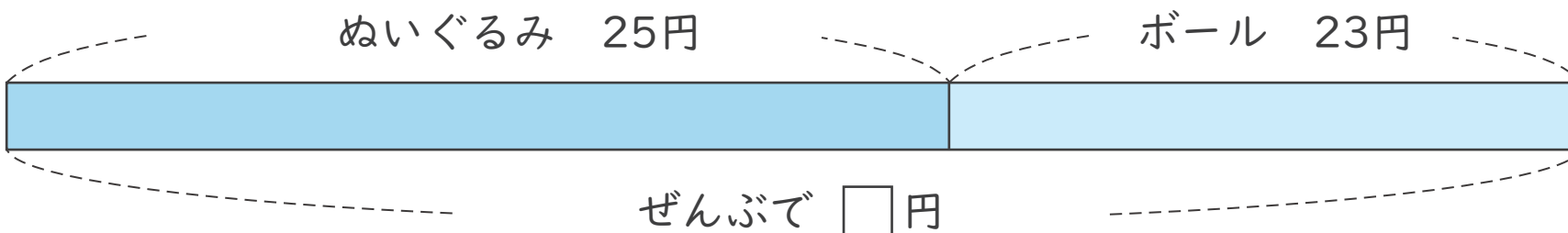
ねん  
年

くみ  
組

なまえ  
名前

図を見て  をもとめる しきと 答えを 書きましょう。

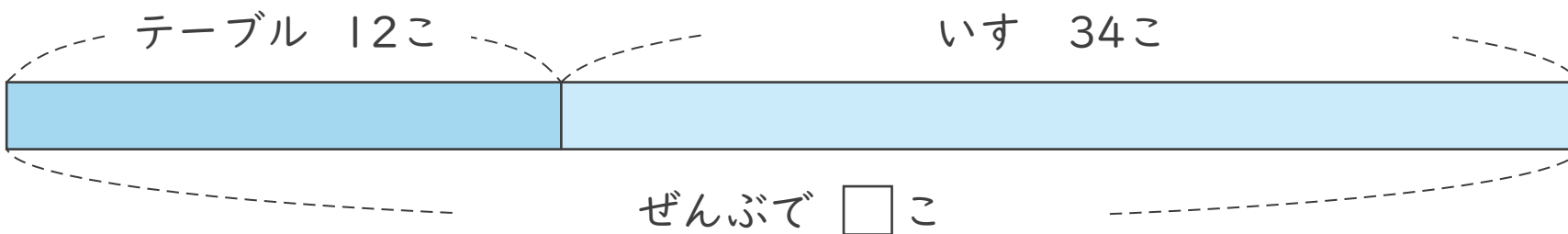
1 ぬいぐるみと ボール ぜんぶ いくらですか。



(しき)

答え

2 テーブルと いす ぜんぶで 何こですか。



(しき)

答え





# 図をつかって考えよう

## たし算とひき算のかんけい 1 (9)

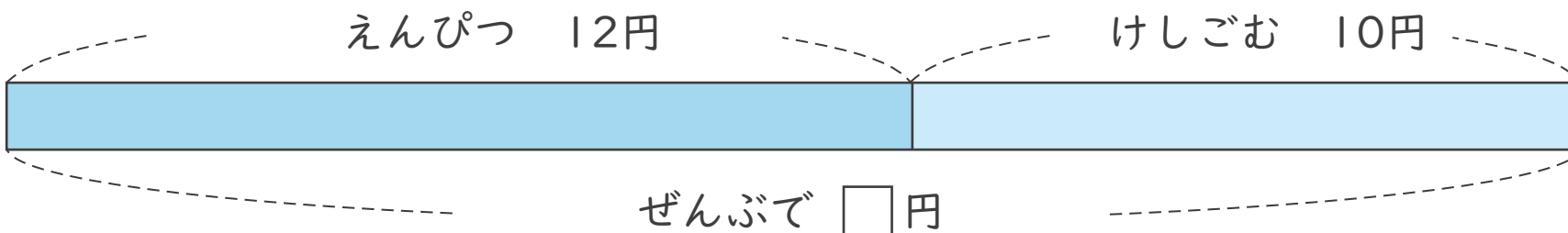
ねん  
年

くみ  
組

なまえ  
名前

図を見て  をもとめるしきと答えを書きましょう。

1 えんぴつとけしごむぜんぶでいくらですか。



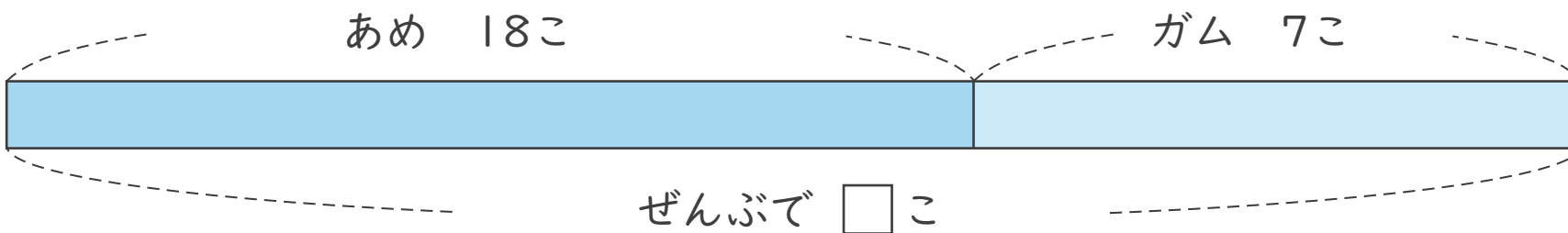
(しき)

\_\_\_\_\_

こた  
答え

\_\_\_\_\_

2 あめとガムあわせて何こですか。



(しき)

\_\_\_\_\_

こた  
答え

\_\_\_\_\_



# 図をつかって考えよう

## たし算とひき算の かんけい 1 (10)

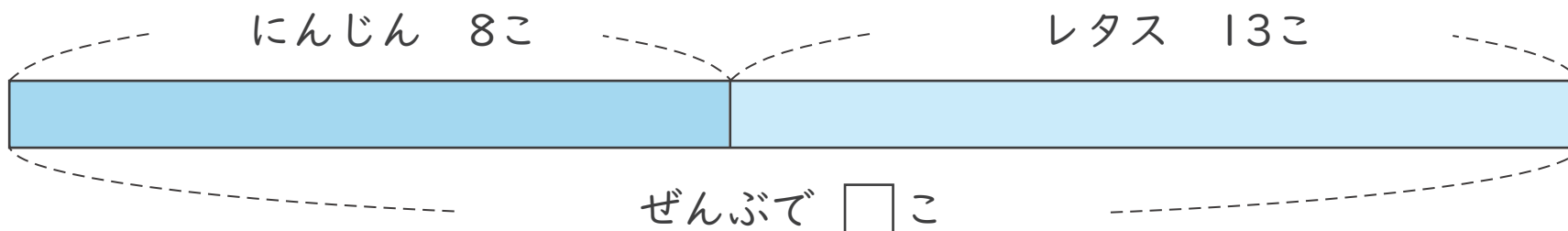
ねん  
年

くみ  
組

なまえ  
名前

図を見て  $\square$  をもとめる しきと 答えを 書きましょう。

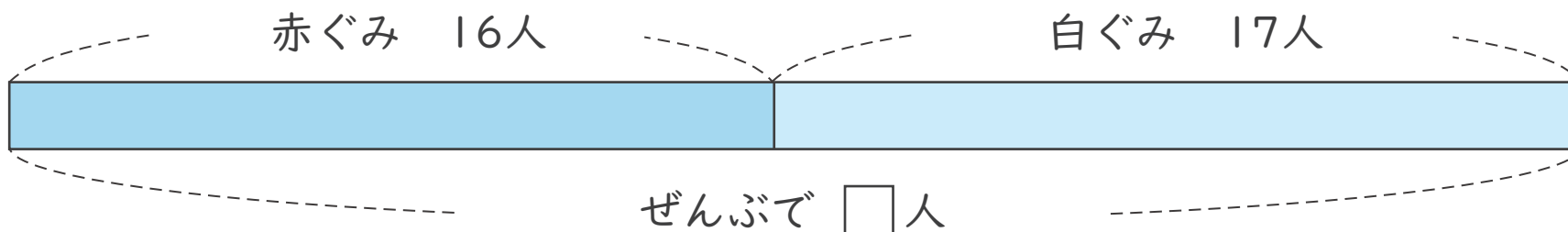
1 にんじんと レタス ぜんぶで 何こですか。



(しき)

答え

2 赤ぐみと 白ぐみ あわせて 何人ですか。



(しき)

答え



# 図をつかって考えよう

## たし算とひき算のかんけい ① (11)

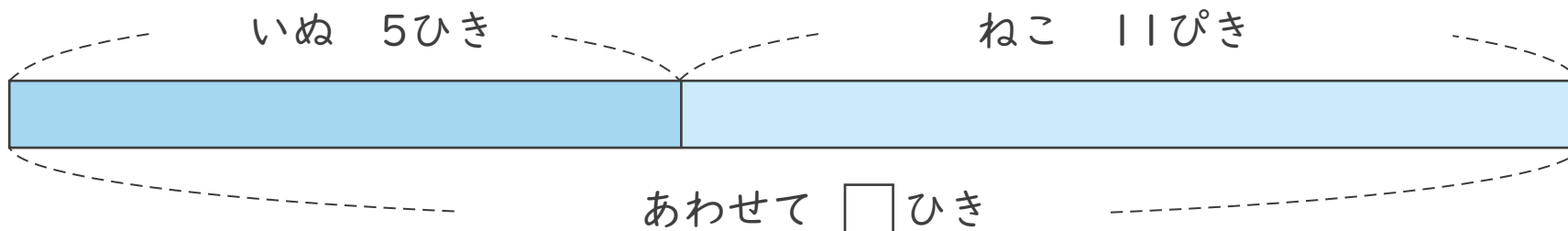
ねん  
年

くみ  
組

なまえ  
名前

図を見て  $\square$  をもとめるしきと答えを書きましょう。

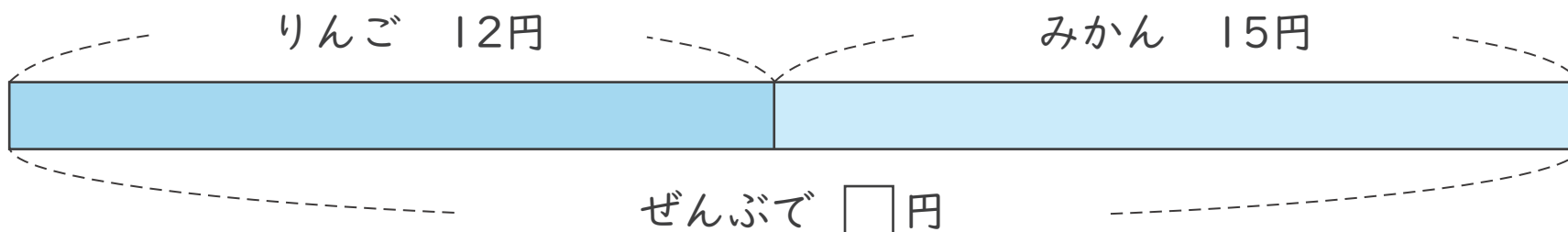
1 いぬとねこあわせて何ひきですか。



(しき)

こた  
答え

2 りんごとみかんぜんぶでいくらですか。



(しき)

こた  
答え



# 図をつかって考えよう

## たし算とひき算のかんけい 1 (12)

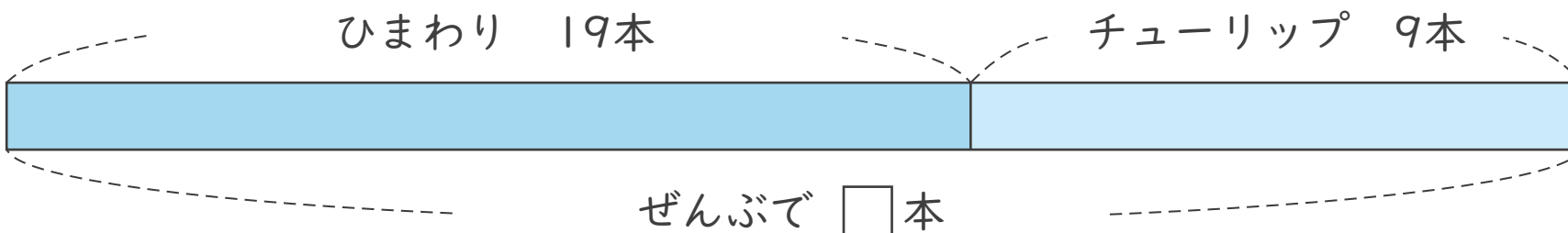
ねん  
年

くみ  
組

なまえ  
名前

図を見て  をもとめるしきと 答えを書きましょう。

1 ひまわりとチューリップぜんぶで何本ですか。



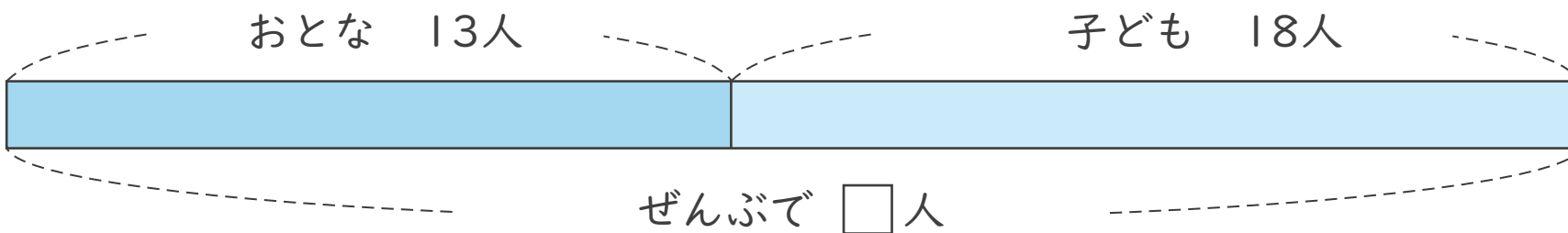
(しき)

\_\_\_\_\_

答え

\_\_\_\_\_

2 おとなと子どもあわせて何人ですか。



(しき)

\_\_\_\_\_

答え

\_\_\_\_\_



# 図をつかって考えよう

## たし算とひき算のかんけい ① (1)

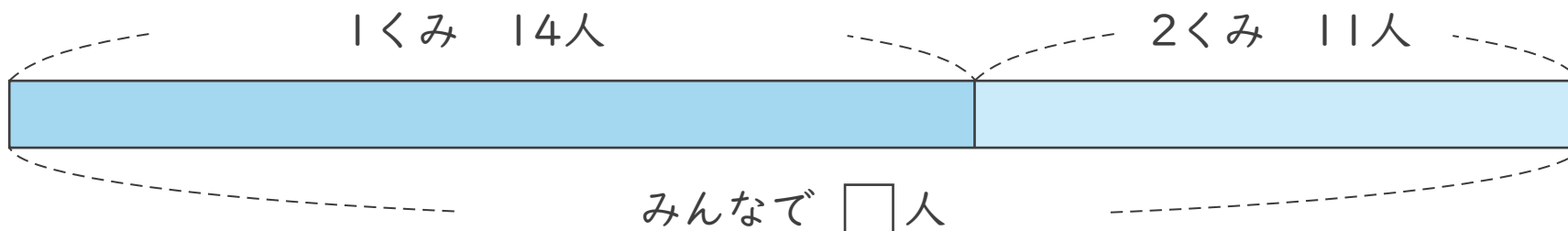
ねん  
年

くみ  
組

なまえ  
名前

図を見て  をもとめるしきと 答えを書きましょう。

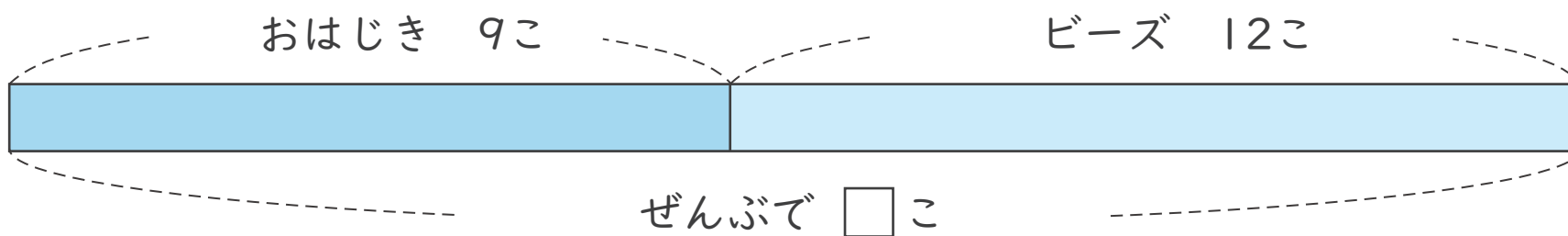
1 1くみと2くみ あわせて何人ですか。



(しき)  $14 + 11 = 25$

答え  $25$  人

2 おはじきとビーズぜんぶで何こですか。



(しき)  $9 + 12 = 21$

答え  $21$  こ



# 図をつかって考えよう

## たし算とひき算のかんけい 1 (2)

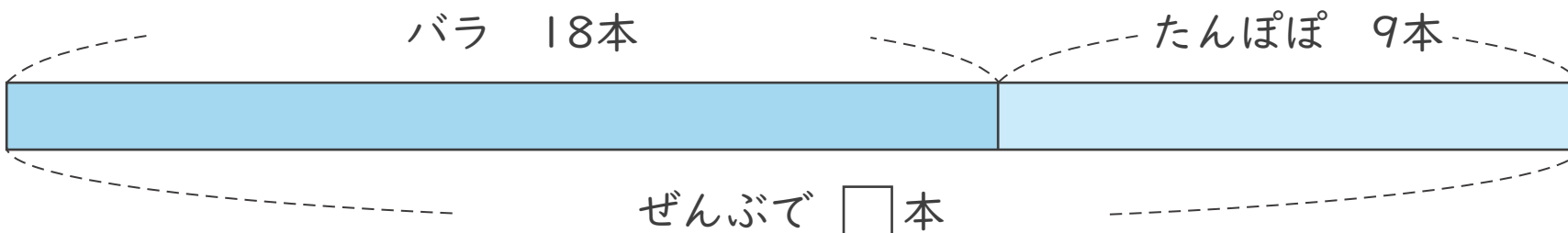
ねん  
年

くみ  
組

なまえ  
名前

図を見て  をもとめるしきと答えを書きましょう。

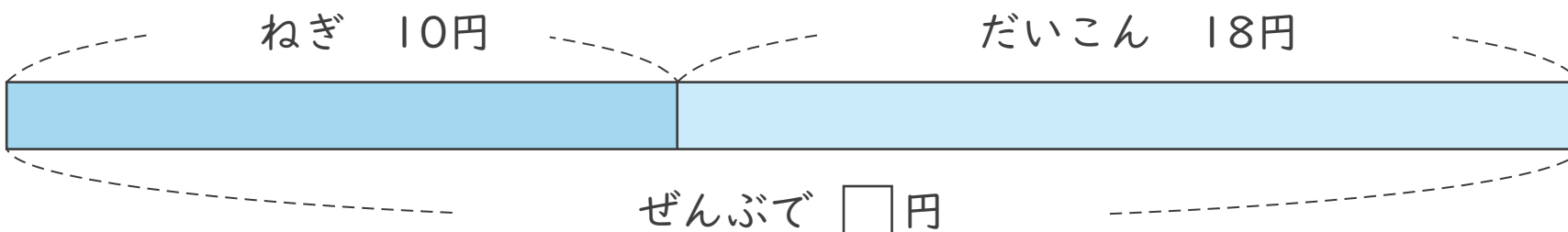
1 バラとたんぽぽぜんぶで何本ですか。



(しき)  $18 + 9 = 27$

答え  $27$  本

2 ねぎとだいこんぜんぶでいくらですか。



(しき)  $10 + 18 = 28$

答え  $28$  円



# 図をつかって考えよう

## たし算とひき算の かんけい 1 (3)

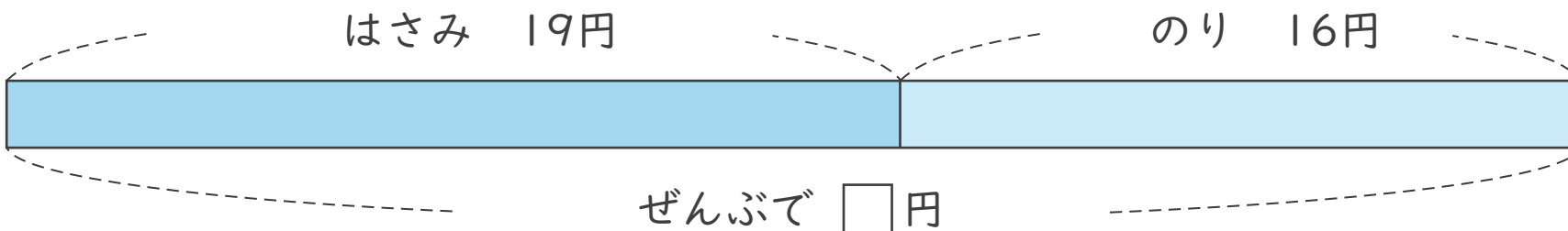
ねん  
年

くみ  
組

なまえ  
名前

図を見て  をもとめる しきと 答えを 書きましょう。

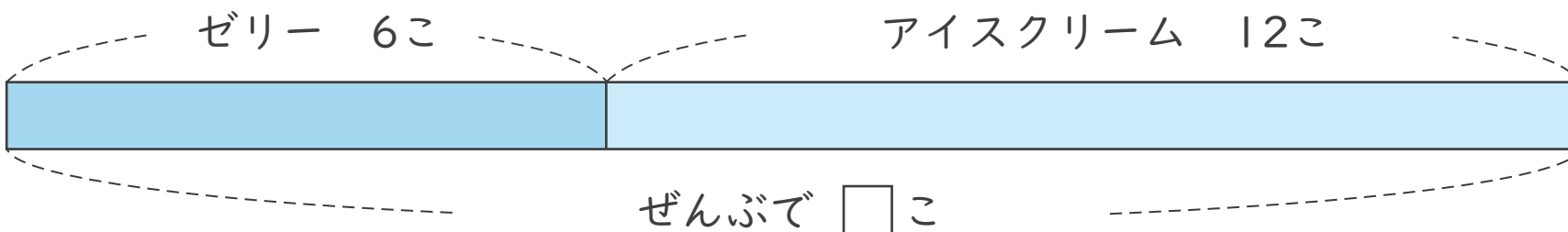
1 はさみと のり ぜんぶで いくらですか。



(しき)  $19 + 16 = 35$

こた  
答え 35円

2 ゼリーと アイスクリーム ぜんぶで 何こですか。



(しき)  $6 + 12 = 18$

こた  
答え 18こ



# 図をつかって考えよう

## たし算とひき算のかんけい 1 (4)

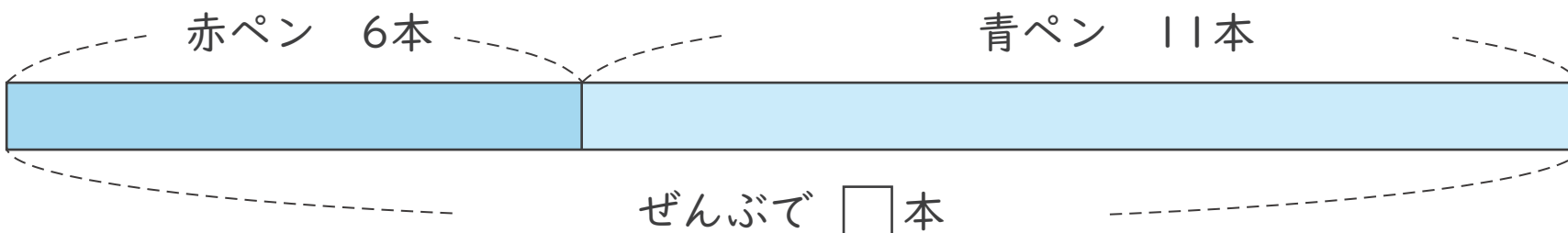
ねん  
年

くみ  
組

なまえ  
名前

図を見て  をもとめるしきと答えを書きましょう。

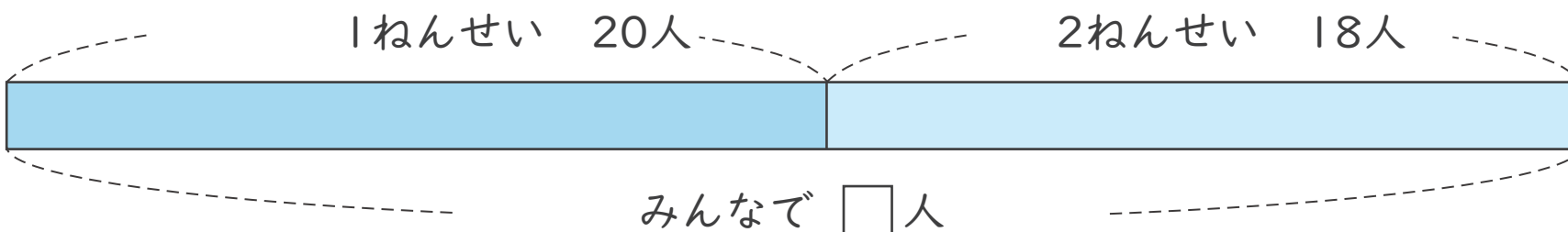
1 赤ペンと青ペンぜんぶで何本ですか。



(しき)  $6 + 11 = 17$

こた  
答え  $17$ 本

2 1ねんせいと2ねんせいあわせて何人ですか。



(しき)  $20 + 18 = 38$

こた  
答え  $38$ 人





# 図をつかって考えよう

## たし算とひき算のかんけい 1 (5)

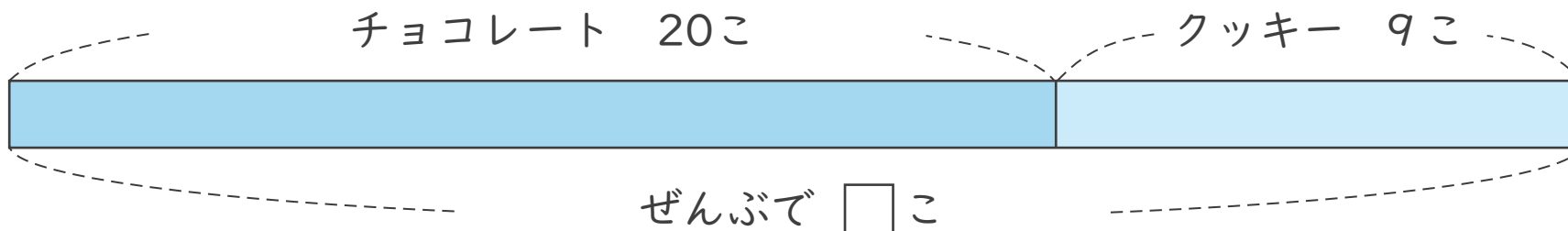
ねん  
年

くみ  
組

なまえ  
名前

図を見て  をもとめるしきと答えを書きましょう。

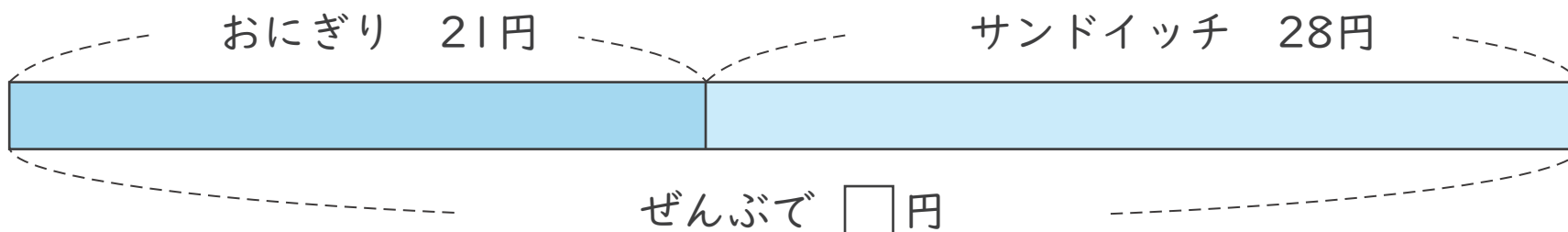
1 チョコレートとクッキーぜんぶで何こですか。



(しき)  $20 + 9 = 29$

答え  $29$  こ

2 おにぎりとサンドイッチぜんぶでいくらですか。



(しき)  $21 + 28 = 49$

答え  $49$  円



# 図をつかって考えよう

## たし算とひき算のかんけい 1 (6)

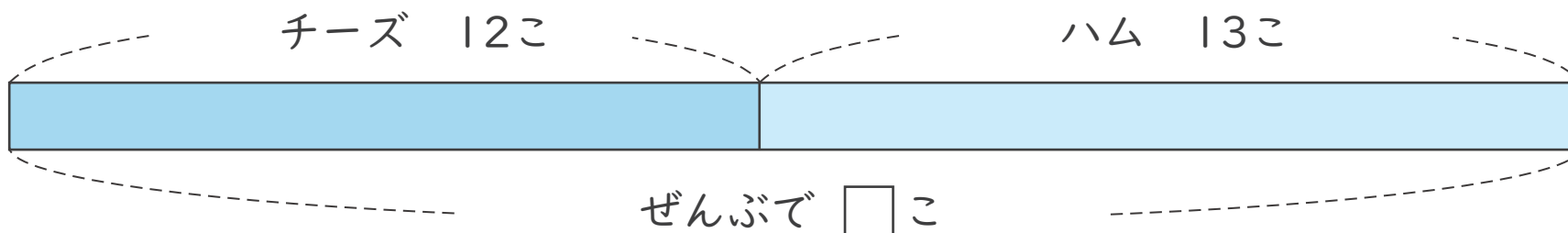
ねん  
年

くみ  
組

なまえ  
名前

図を見て  をもとめるしきと答えを書きましょう。

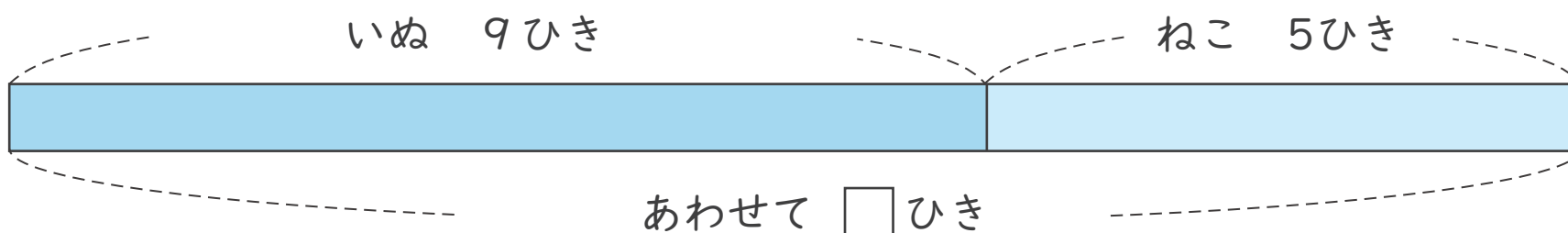
1 チーズとハムぜんぶで何こですか。



(しき)  $12 + 13 = 25$

こた  
答え  $25$  こ

2 いぬとねこあわせて何ひきですか。



(しき)  $9 + 5 = 14$

こた  
答え  $14$  ひき



# 図をつかって考えよう

## たし算とひき算のかんけい 1 (7)

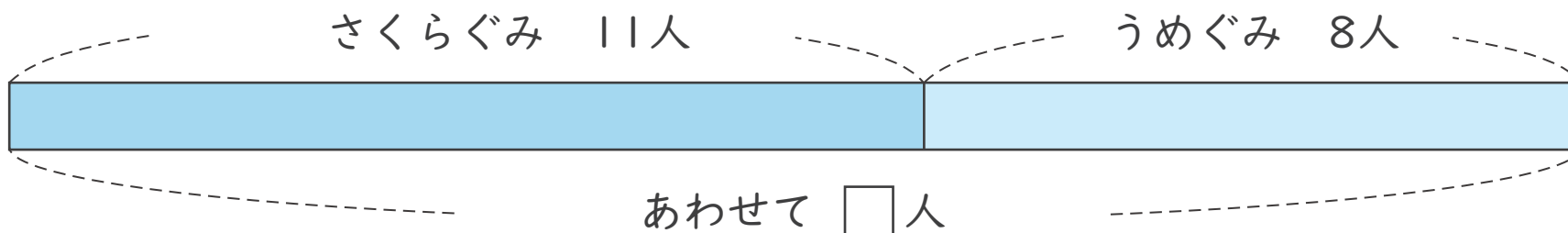
ねん  
年

くみ  
組

なまえ  
名前

図を見て  をもとめるしきと答えを書きましょう。

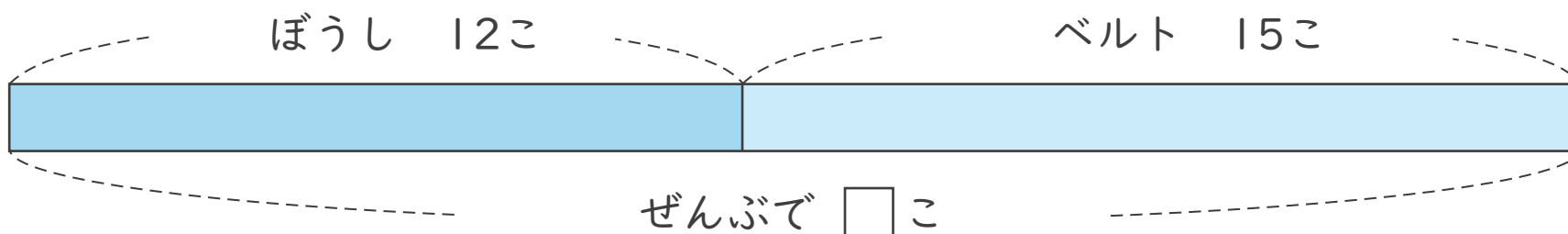
1 さくらぐみとうめぐみあわせて何人ですか。



(しき)  $11 + 8 = 19$

こたえ  $19$  人

2 ぼうしとベルトぜんぶで何こですか。



(しき)  $12 + 15 = 27$

こたえ  $27$  こ



# 図をつかって考えよう

## たし算とひき算のかんけい 1 (8)

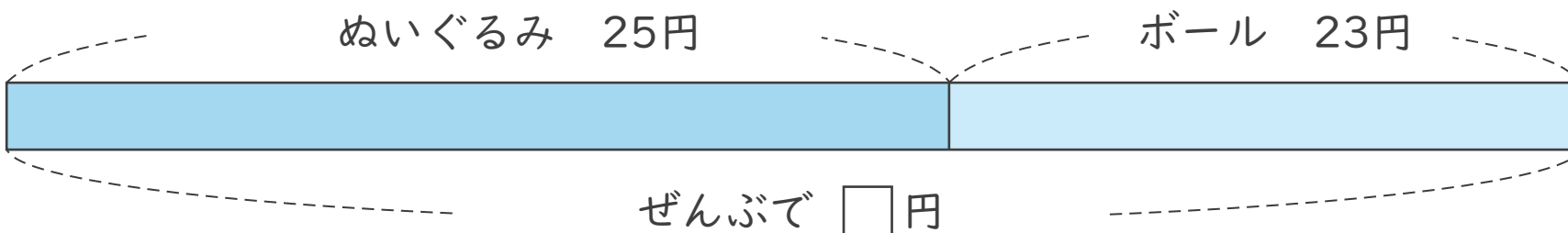
ねん  
年

くみ  
組

なまえ  
名前

図を見て  をもとめる しきと 答えを 書きましょう。

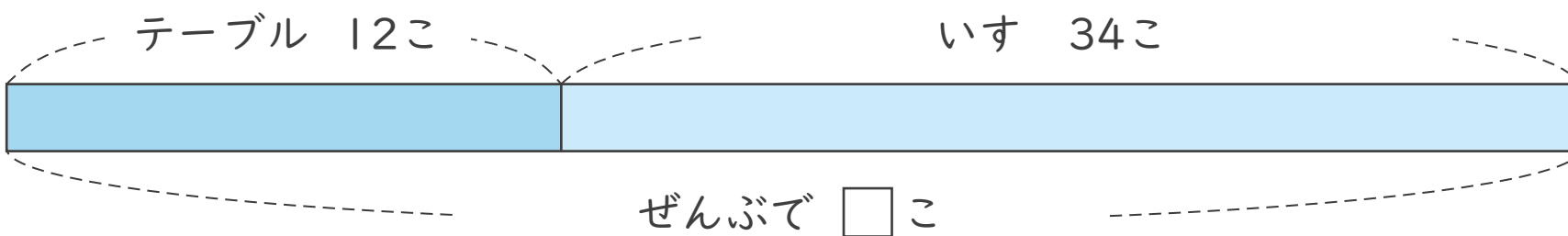
1 ぬいぐるみと ボール ぜんぶいくらですか。



(しき)  $25 + 23 = 48$

こた  
答え  $48$  円

2 テーブルと いす ぜんぶで 何こですか。



(しき)  $12 + 34 = 46$

こた  
答え  $46$  こ



# 図をつかって考えよう

## たし算とひき算のかんけい 1 (9)

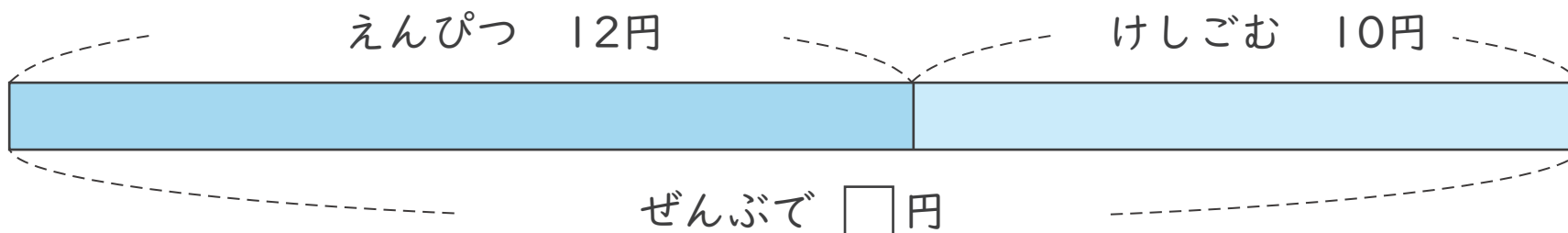
ねん  
年

くみ  
組

なまえ  
名前

図を見て  をもとめるしきと答えを書きましょう。

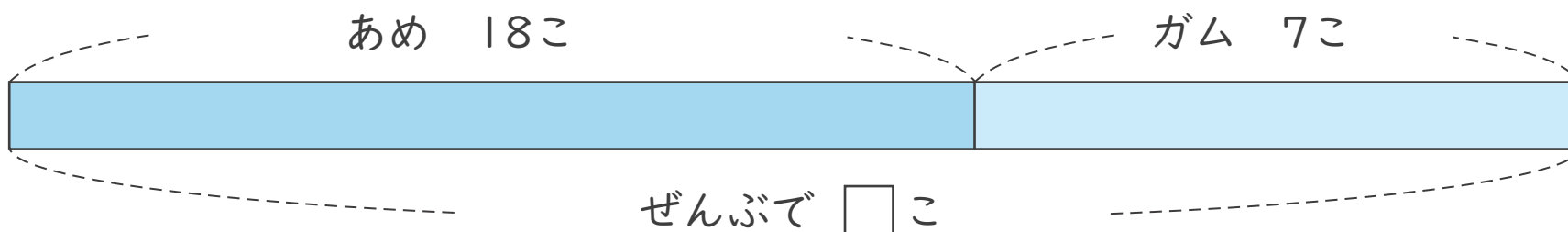
1 えんぴつとけしごむぜんぶでいくらですか。



(しき)  $12 + 10 = 22$

こた  
答え 22円

2 あめとガムあわせて何こですか。



(しき)  $18 + 7 = 25$

こた  
答え 25こ



# 図をつかって考えよう

## たし算とひき算のかんけい 1 (10)

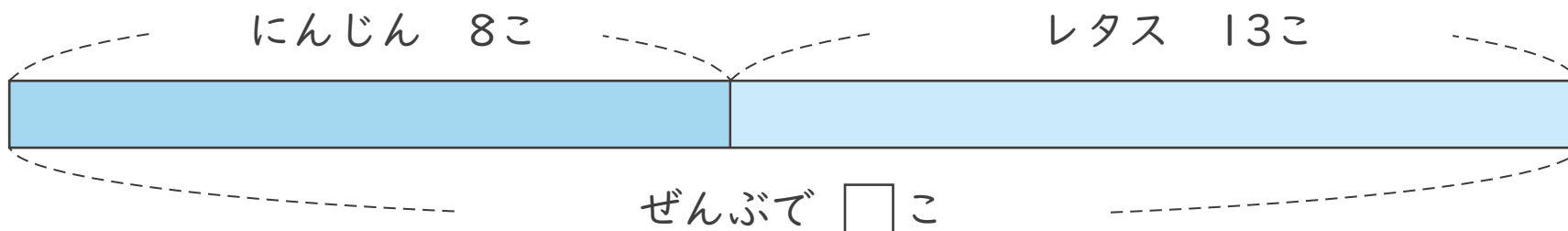
ねん  
年

くみ  
組

なまえ  
名前

図を見て  をもとめるしきと答えを書きましょう。

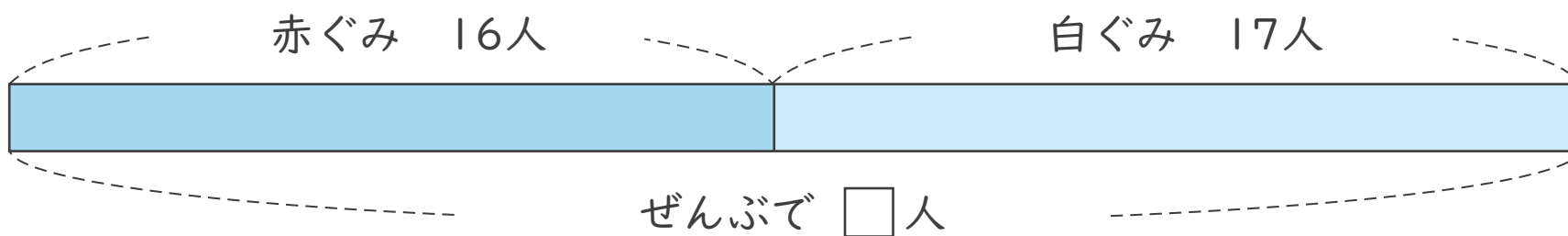
1 にんじんとレタスぜんぶで何こですか。



(しき)  $8 + 13 = 21$

こた  
答え  $21$  こ

2 赤ぐみと白ぐみあわせて何人ですか。



(しき)  $16 + 17 = 33$

こた  
答え  $33$  人



# 図をつかって考えよう

## たし算とひき算のかんけい ① (11)

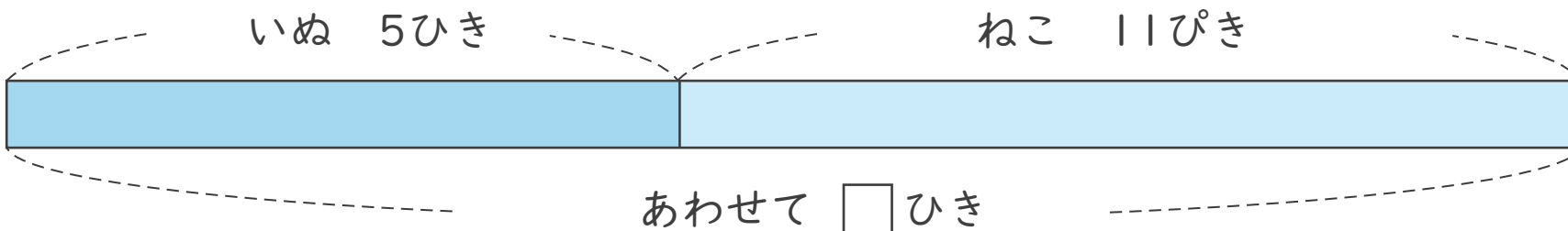
ねん  
年

くみ  
組

なまえ  
名前

図を見て  をもとめるしきと答えを書きましょう。

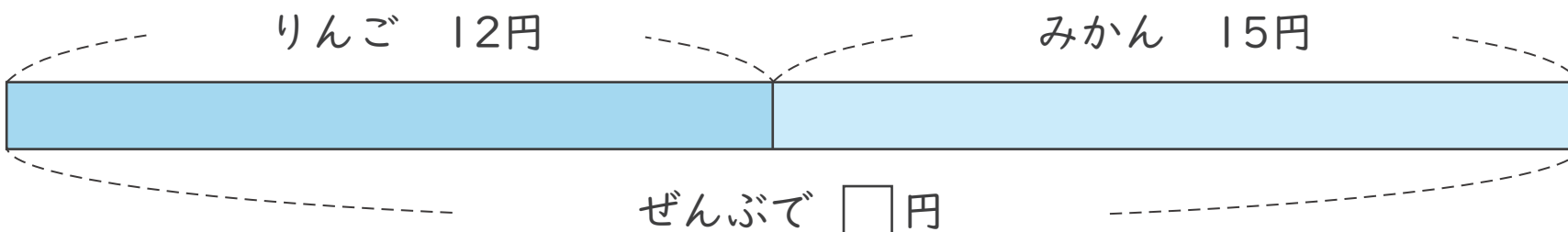
1 いぬとねこあわせて何びきですか。



(しき)  $5 + 11 = 16$

こたえ  $16$  ひき

2 りんごとみかんぜんぶでいくらですか。



(しき)  $12 + 15 = 27$

こたえ  $27$  円



# 図をつかって考えよう

## たし算とひき算のかんけい 1 (12)

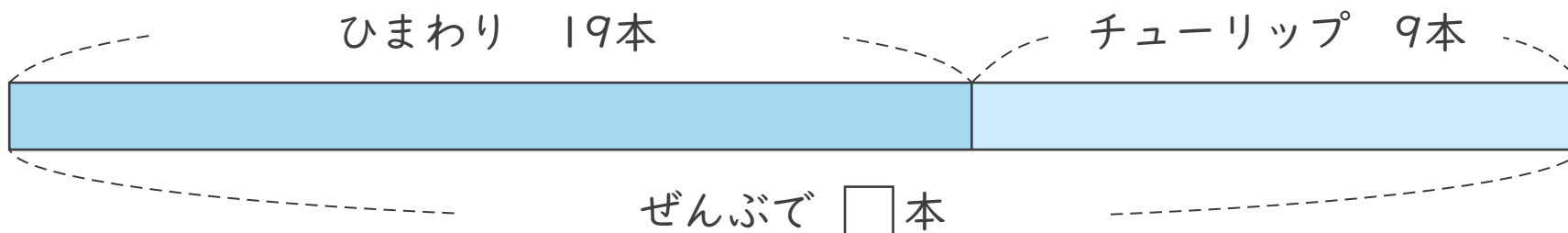
ねん  
年

くみ  
組

なまえ  
名前

図を見て  をもとめるしきと 答えを書きましょう。

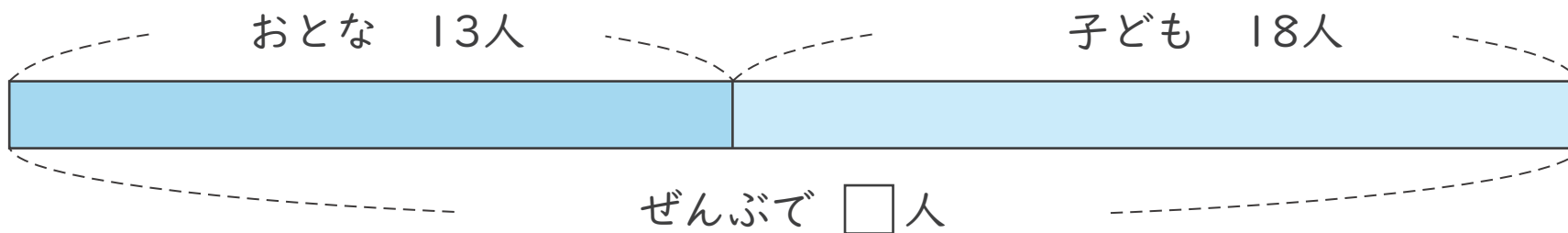
1 ひまわりとチューリップぜんぶで何本ですか。



(しき)  $19 + 9 = 28$

答え  $28$  本

2 おとなと子どもあわせて何人ですか。



(しき)  $13 + 18 = 31$

答え  $31$  人